

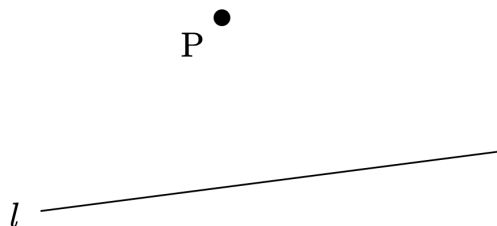
【中1 数学 | 平面図形】

【1】下の図で、点 P を通る直線 l の垂線を作図せよ。

(1)

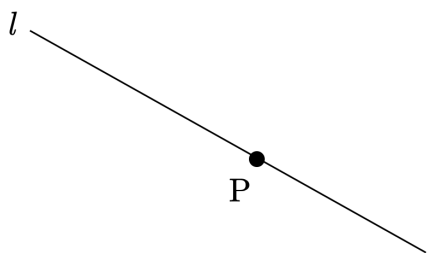


(2)




【2】下の図で、点 P を通る直線 l の垂線を作図せよ。

(1)

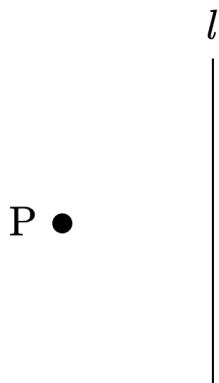


(2)

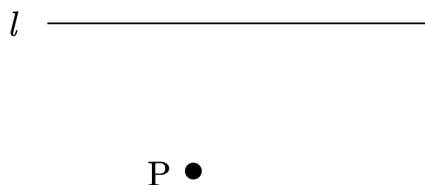


【3】下の図で、点 P を通る直線 l の垂線を作図せよ。

(1)



(2)



YouTubeチャンネルも見てね▶ 『ふじわら塾長』で検索!!

