



## 【中1 数学 | 平面図形】

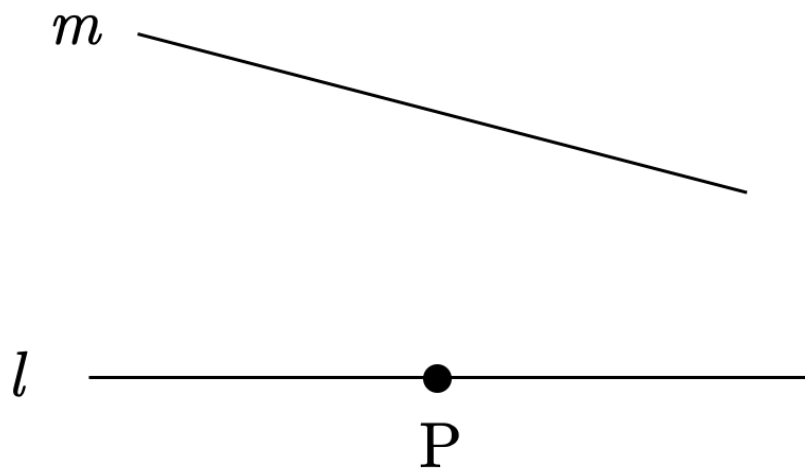
【1】下の図で、 $\angle BOA$  の大きさが次の(1), (2)となる半直線  $OB$  をそれぞれ作図せよ。

(1)  $135^\circ$

(2)  $75^\circ$



【2】右の図のように、直線  $l$ ,  $m$  と直線  $l$  上の点  $P$  がある。中心が直線  $m$  上にあり、点  $P$  で直線  $l$  に接するような円を作図せよ。



YouTubeチャンネルも見てね▶ 『ふじわら塾長』で検索!!

